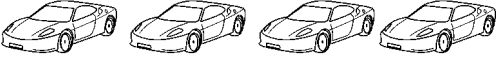






Time: 10 Minutes	Paper Math 3	Total Marks: 10
------------------	--------------	-----------------

6th Month, 3rd Week, 5th Day	Syllabus: Unit 7. Exercise # 2. Q # 2.
------------------------------	--

Q.1. The following picture graph shows the production of cars in different years. (1 picture = 100 cars)

درج ذیل تصویری گراف مختلف سالوں میں گاڑیوں کی پروڈکشن ظاہر کرتا ہے۔ (ایک تصویر = 100 گاڑیاں)

2008	
2009	
2010	
2011	
2012	

Observe the above graph and answer the following questions: (10)

اوپر دیے گئے تصویری گراف کا مشاہدہ کر کے نیچے دیے گئے سوالات کے جواب لکھیں۔

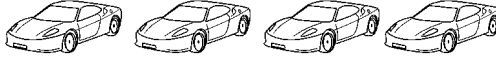



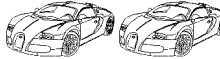
- (i) How many cars were manufactured in 2008?
- 2008ء میں کتنی گاڑیاں بنیں؟
- (ii) How many cars were manufactured in 2010?
- 2010ء میں کتنی گاڑیاں تیار ہوئیں؟
- (iii) In which year, the most number of cars were manufactured?
- کس سال میں سب سے زیادہ گاڑیاں تیار ہوئیں؟
- (iv) In which year, the least number of cars were manufactured?
- کن دو سالوں میں برابر تعداد میں گاڑیاں تیار ہوئیں؟
- (v) In which two years, equal number of cars were manufactured?
- بدھ اور جمعرات کو غیر حاضر ہونے والے طالب علموں کی کل تعداد لکھیں۔

Time: 10 Minutes	Paper Math 3	Total Marks: 10
------------------	--------------	-----------------

6th Month, 3rd Week, 5th Day	Syllabus: Unit 7. Exercise # 2. Q # 2.
------------------------------	--

Q.1. The following picture graph shows the production of cars in different years. (1 picture = 100 cars)

درج ذیل تصویری گراف مختلف سالوں میں گاڑیوں کی پروڈکشن ظاہر کرتا ہے۔ (ایک تصویر = 100 گاڑیاں)

2008	
2009	
2010	
2011	
2012	

Observe the above graph and answer the following questions: (10)

اوپر دیے گئے تصویری گراف کا مشاہدہ کر کے نیچے دیے گئے سوالات کے جواب لکھیں۔

- (i) How many cars were manufactured in 2008?
- 2008ء میں کتنی گاڑیاں بنیں؟
- (ii) How many cars were manufactured in 2010?
- 2010ء میں کتنی گاڑیاں تیار ہوئیں؟
- (iii) In which year, the most number of cars were manufactured?
- کس سال میں سب سے زیادہ گاڑیاں تیار ہوئیں؟
- (iv) In which year, the least number of cars were manufactured?
- کن دو سالوں میں برابر تعداد میں گاڑیاں تیار ہوئیں؟
- (v) In which two years, equal number of cars were manufactured?
- بدھ اور جمعرات کو غیر حاضر ہونے والے طالب علموں کی کل تعداد لکھیں۔